



9º ANO – ENSINO FUNDAMENTAL II

MATEMÁTICA

SECRETARIA MUNICIPAL DE EDUCAÇÃO E CULTURA DE ALFENAS

Clique aqui
para continuar



ATENÇÃO!!!

AOS PAIS, ALUNOS E/OU RESPONSÁVEIS;

- **NÃO HÁ NECESSIDADE DE REALIZAR A IMPRESSÃO DESTE MATERIAL.**
- **AS ATIVIDADES NÃO SÃO OBRIGATÓRIAS.**
- **OS(AS) ALUNOS (AS) IRÃO REVER ESTAS ATIVIDADES NA VOLTA ÀS AULAS.**



<https://br.pinterest.com/pin/265571709265294874/>

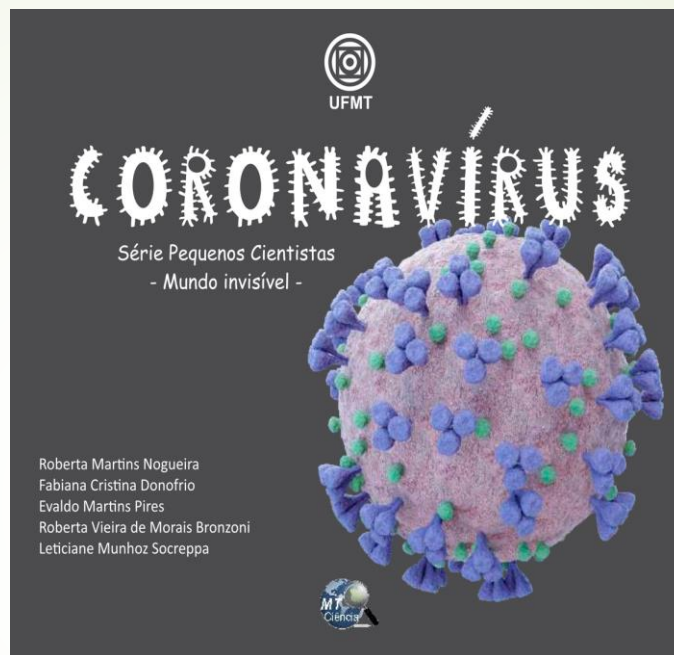
ANTERIOR

PRÓXIMA

ALUNO,

COPIE OS LINKS ABAIXO PARA FAZER AS LEITURAS DAS CARTILHAS E RESOLVA AS ATIVIDADES PROPOSTAS.

Oi! Tudo bem? Esperamos que estejam todos bem! Está preparado para testar seus conhecimentos sobre Matemática? Preparamos algumas atividades para você nesse momento de pandemia e as cartilhas ao lado com informações sobre o Coronavírus. Resolva as atividades no seu caderno.



Disponível em:

<https://drive.google.com/file/d/1WoyueUThO-nxSdyKAnOOqd7SHI4m9jOE/view?fbclid=IwAR2VG49PA8Y8BeUoPEAimUSzWotsFsndPTF-A4I9ycLgx3X5dzbHh10FsdU>



Disponível em:

https://www.ana.gov.br/noticias/diretoria-colegiada-aprova-medidas-em-decorrencia-do-novo-coronavirus-covid-19/cartilha_coronavirus.pdf/view

← ANTERIOR

PRÓXIMA →

ATIVIDADES:

Leia a notícia abaixo e resolva a atividade a seguir:



RIO JÁ TEM MAIS DE 67 MIL CASOS DE CORONAVÍRUS; MORTES PASSAM DE 6.700


O Estado do Rio de Janeiro registrou 68 mortes por covid-19 e 3223 novos casos da doença no período de 24 horas, segundo boletim divulgado na tarde deste domingo (7) pela secretaria estadual de Saúde. Agora são 6.707 mortos 67.756 casos no total. Se fosse um país, o estado do Rio seria o 20º do mundo com mais infectados. O recorde de mortes em 24 horas foi registrado na última quarta-feira (3), com 324 casos. [...]

<https://www.msn.com/pt-br/noticias/brasil/rio-já-tem-mais-de-67-mil-casos-de-coronavírus-mortes-passam-de-6-700/ar-BB15acKm?ocid=spartan-dhp-feeds>

ANTERIOR

PRÓXIMA

- I- Segundo a notícia do slide anterior, “O recorde de mortes em 24 horas foi registrada na última quarta-feira (3), com 324 casos”. Suponha que mantenha essa proporção, qual o número de casos em 1 semana (7 dias)?



A 2.260

B 2.264

C 2.268

D 2.272

Responda em
seu caderno

SUGESTÃO DE VÍDEOAULA PARA ESSA
ATIVIDADE:

<https://www.youtube.com/watch?v=7gK3-QG363o>

Copie o link acima para assistir à aula
no youtube.



ANTERIOR

PRÓXIMA

A informação ao lado foi retirada da Cartilha do Ministério da Saúde, indicada para a sua leitura.



Leia a informação acima, a manchete e a lide da reportagem abaixo e resolva a atividade a seguir:

Minas Gerais ultrapassa 3 mil casos confirmados de coronavírus e tem 118 mortos
Foram 180 pessoas diagnosticadas e sete novos óbitos em decorrência da doença nas últimas 24 horas

Por **GABRIEL MORAES** 09/05/20 - 10h01

<https://www.otempo.com.br/coronavirus/minas-gerais-ultrapassa-3-mil-casos-confirmados-de-coronavirus-e-tem-118-mortos-1.2335255>

Fique tranquilo, mas atento!

A infecção por coronavírus (Covid-19) é uma doença de baixa letalidade. Dados da OMS mostram que 80% dos casos são leves. A maior preocupação é quando a doença atinge idosos ou pessoas com doenças crônicas.




OMS- Organização Mundial de Saúde

ANTERIOR

PRÓXIMA

➤ **II- Atenção para a informação: Dados da OMS mostram que 80% dos casos são leves.**

➤ **Segundo a reportagem acima, foram 180 pessoas diagnosticadas em Minas Gerais, até o data de 09/05/2020. Considerando a porcentagem dos dados da OMS, qual o número de casos leves em Minas Gerais, nessa data?**



A 36

B 60

C 108

D 144

SUGESTÃO DE VÍDEOAULA PARA ESSA ATIVIDADE:

<https://www.youtube.com/watch?v=nUgAGtEBleM>

Copie o link acima para assistir à aula no youtube.

Responda em seu caderno



ANTERIOR

PRÓXIMA

A informação abaixo foi retirada da Cartilha do Ministério da Saúde, indicada para a sua leitura.

Leia a informação e resolva a atividade a seguir:






Cuidados ao chegar em casa

- Lave as mãos com água e sabão, antes de retirar a máscara.
- Remova a máscara pelo laço ou nó da parte trás e evite tocar na parte da frente.
- Deixe a máscara de molho por 30 minutos em uma mistura de 1 parte de água sanitária (2% a 2,5%) com 50 partes de água potável. Por exemplo: 10 ml de água sanitária para 500 ml de água potável.
- Lave a máscara e as mãos com água e sabão.
- A máscara precisa estar seca para ser utilizada de novo.
- Chegando em casa, lave as máscaras usadas com água sanitária. Deixe de molho por cerca de dez minutos.

ATENÇÃO!

O uso das máscaras de pano não substitui as medidas de prevenção.



ANTERIOR

PRÓXIMA

III- De acordo com a informação do slide anterior, devemos utilizar, para a lavagem da máscara, 10 ml de água sanitária para 500 ml de água potável. Joãozinho colocou 1250 ml de água potável para lavar sua máscara. Quantos ml de água sanitária ele deverá utilizar?



A 25

B 50

C 100

D 1000

SUGESTÃO DE VÍDEOAULA PARA ESSA ATIVIDADE:

<https://www.youtube.com/watch?v=7gK3-QG363o>

Copie o link acima para assistir à aula no youtube.

Responda em seu caderno



ANTERIOR

PRÓXIMA

IV- Augusto vai ao supermercado e deseja utilizar uma camiseta, uma bermuda, um tênis e uma máscara. Sabe-se que ele possui 6 camisetas, 5 bermudas, 3 tênis e 7 máscaras. De quantas maneiras distintas Augusto poderá vestir-se?



A 270

B 1890

C 630

D 1990

**SUGESTÃO DE VÍDEOAULA PARA
ESSA ATIVIDADE:**

<https://www.youtube.com/watch?v=3dm6pq6akQI>

**Copie o link acima para assistir à
aula no youtube.**

**Responda em
seu caderno**




ANTERIOR

FIM



Agora, vamos conferir as respostas?

- **Atividade 1: C**
 - **Atividade 2: D**
 - **Atividade 3: A**
 - **Atividade 4: C**
- 

***Siga as dicas que você aprendeu
e se cuide!***



TCHAU!!!